

Alpha Wiskunde

Graad 12 Eksamenvraestel

20 Oktober 2017

Totaal: 200 punte

Tyd: 3 ure

INSTRUKSIES

1. Beantwoord alle vrae op die vraestel en gee dit so in. Onthou om jou naam en ID nommer voor op die vraestel te skryf.
2. Skryf netjies en leesbaar.
3. Nie-programmeerbare sakrekenaars mag gebruik word.
4. Die diagramme in die vraestel is nie noodwendig volgens skaal geteken nie.
5. Alle hoeke word in radiale gegee. Antwoorde moet ook in radiale gegee word indien nodig.
6. Tensy anders gespesifiseer, moet alle antwoorde, waar van toepassing, korrek tot twee desimale syfers afgerond word.
7. Hierdie vraestel bestaan uit 10 vrae en 3 formulebladsye.
8. Vraag 1 bestaan uit 10 meervoudige keuse vrae. Beantwoord dit op die antwoordblad. Hierdie antwoordblad is aan die voorkant van die vraestel. Moet dit asseblief NIE losmaak nie.
9. By al die ander vrae moet alle noodsaaklike berekeninge duidelik getoon word. Die korrekte antwoord alleen sal nie noodwendig tot volpunte lei nie.
10. Daar is ekstra spasie aan die einde van die vraestel. Dui duidelik aan as jy dit gebruik by 'n vraag.

VRAAG 1 [20 punte]

Beantwoord hierdie vraag op die antwoordblad wat voor aangeheg is deur telkens 'n X (kruisie) op A, B, C of D te maak. Moet asb. nie hierdie bladsy losmaak van die vraestel nie. Hierdie vrae tel 2 punte elk.

1.1 As $f(x) = \log x$, dan is $f'(x) =$

- (A) $\frac{1}{x}$
(B) $\frac{1}{x \cdot \ln e}$
(C) $\frac{1}{x \cdot \ln x}$
(D) $\frac{1}{x \cdot \ln 10}$

1.2 Gegee $f(x) = \ln(x + 1)$. Dan is die inverse van f in die vorm $f^{-1}(x) = \dots$

- (A) e^{x-1} (B) $e^x - 1$ (C) e^{x+1} (D) $e^x + 1$

1.3 As $\frac{dy}{dx} = 4x$ en $y = 4$ as $x = 0$, dan is $y = \dots$

- (A) $4x + 2$ (B) $4 + x^2$
(C) $2x^2 + 4$ (D) $2 + 4x^2$

1.4 Die grafiek van $y = |2x - 4| - 2$ het 'n knakpunt by ...

- (A) $(-4; -2)$ (B) $(4; -2)$ (C) $(2; -2)$ (D) $(-2; -2)$

1.5 Watter een van die volgende uitdrukkinge sal konvergeer as $|x| < 4$?

- (A) $\frac{1}{1+4x}$ (B) $\frac{1}{4+x}$ (C) $\frac{1}{2-4x}$ (D) $\frac{1}{2x-4}$

1.6 $\sqrt{5} - 2$ is 'n nulpunt van 'n polinoom. Watter van die volgende sal dan 'n faktor van die polinoom wees?

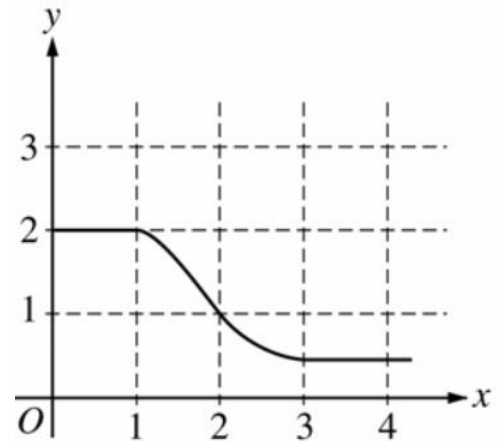
- (A) $x^2 + 4x - 1$ (B) $x - 2 - \sqrt{5}$
(C) $x^2 - 4x - 1$ (D) $x - 2 + \sqrt{5}$

1.7 Die skets regs toon die grafiek van f .

As $\int_1^3 f(x) dx = 2,3$ en $F'(x) = f(x)$,

dan sal $F(3) - F(0) = \dots$

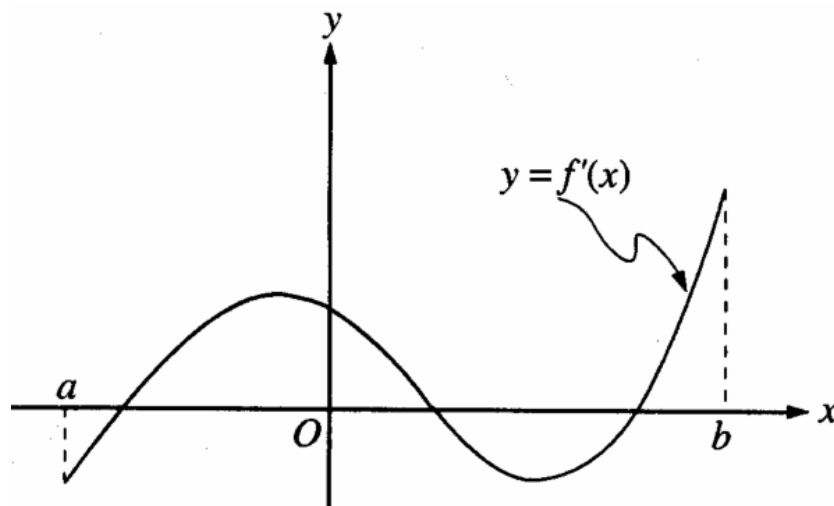
- (A) 0,3
- (B) 1,3
- (C) 3,3
- (D) 4,3



1.8 As $y = 2x - 8$, vir watter waarde van x sal die produk xy 'n minimum waarde hê?

- (A) -16
- (B) -8
- (C) -4
- (D) 2

1.9 Die grafiek van f' , die afgeleide van f , word getoon.



Watter van die volgende beskryf die lokale stasionêre punte van f in die interval $(a; b)$?

- (A) Een lokale maksimum en twee lokale minimum punte.
- (B) Een lokale minimum en twee lokale maksimum punte.
- (C) Drie lokale minimum punte.
- (D) Drie lokale maksimum punte.

1.10 As $e^{f(x)} = 1 + x^2$ dan is $f'(1) = \dots$

- (A) $\frac{1}{2}$
- (B) 1
- (C) 4
- (D) $2e^2$

Beantwoord die volgende vrae op die vraestel op die lyne wat onder aan elke vraag voorsien is.

VRAAG 2 [20 punte]

2.1 'n Mikrobioloog bestudeer 'n sekere bakterie. Die aantal bakterieë in die monster kan bepaal word met die formule $N = 5,85(2^{kt})$ waar t die tyd in uur, k 'n konstante en N die aantal bakterieë in miljoen is.

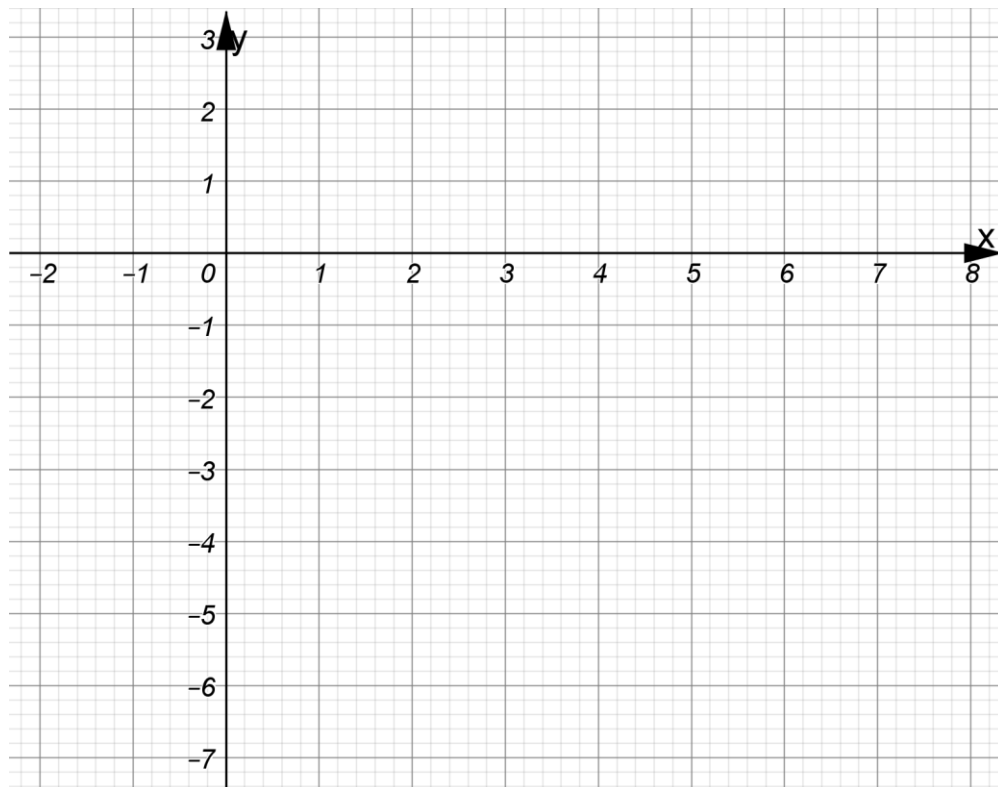
(a) Bepaal hoeveel miljoen bakterieë daar aanvanklik was. (2)

(b) Bereken die waarde van k , korrek tot 4 desimale syfers, indien daar na 20 uur 7,68 miljoen bakterieë is. (3)

(c) Gebruik $k = 0,02$ en bereken die tempo waarteen die bakterieë vermeerder na 20 uur. (4)

8.3 Bepaal die x - en y - afsnitte van die grafiek van f . (3)

8.4 Gebruik die inligting vooraf verkry en maak 'n sketsgrafiek van $y = f(x)$ op die onderstaande assestelsel, as dit verder ook gegee word dat die grafiek 'n horisontale asimptoot by $y = 0$ het. (6)



VRAAG 9 [25 punte]

9.1 Bepaal die volgende integrale:

a) $\int \cot^2 x \, dx$ (4)
